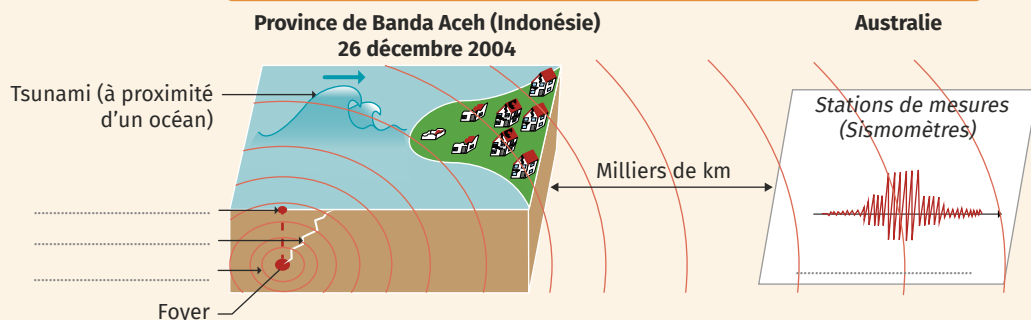


# 3

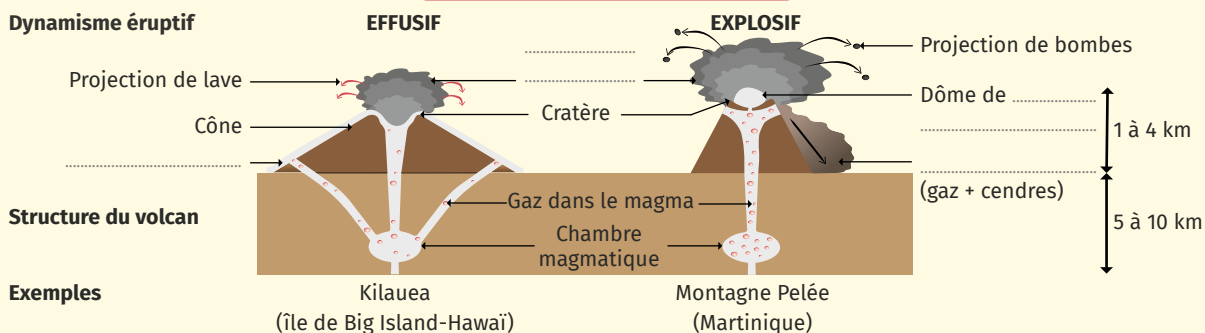
## Séismes et volcans

### A Je fais le bilan sous forme de schéma

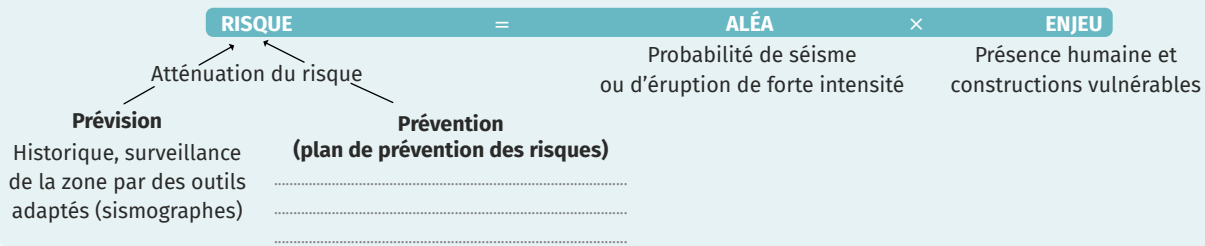
**SÉISME = Tremblement de terre provoqué par la libération brutale d'énergie issue d'une rupture de roches en profondeur.**



**VOLCANS = Lieux d'émission de lave.**



**Risque sismique ou volcanique**



**À ton tour** Finalise ce schéma...

- 🍃 ... en coloriant en rouge magma et lave.
- 🍃 ... en complétant les légendes.
- 🍃 **Brevet** ... en proposant des moyens de prévention.

**Défi Oral**

Explique à ton voisin l'origine du tsunami qui a touché l'Indonésie en 2004.